
	Departament de Geografia i Història	
	<b>Treball d'aprofundiment</b>	<b>Juny de 2011</b>

- Realitza les següents activitats corresponents a les unitats didàctiques treballades durant el curs.



⇒ Recorda que hauràs de presentar-les el dia 1 de setembre de 2011.

1. En quina serralada es troben els *Picos d'Europa*? Per què anomenem així a aquest massís muntanyós?

2. Anomena i assenjala al mapa els sistemes muntanyosos que travessen i voregen la meseta. Indica'ls amb colors diferents.



Realitzat per: Ignasi Lloret <small>Signatura</small>	Revisat per: Dept. Ciències Socials <small>Signatura</small>	Data: 20/06/2011  Revisió: 1 Pàgina : 1/20
--	---	---

	Departament de Geografia i Història	
	<b>Treball d'aprofundiment</b>	<b>Juny de 2011</b>



3. Anomena i assenyala al mapa les serralades exteriors a la meseta.



4. Què és una depressió? Quines depressions tenim a la península Ibèrica?

5. Anomena les Costes de la península Ibèrica. Assenyala-les al mapa de la pregunta 3.

Realitzat per: Ignasi Lloret <small>Signatura</small>	Revisat per: Dept. Ciències Socials <small>Signatura</small>	Data: 20/06/2011  Revisió: 1 Pàgina : 2/20
--	---	---

	Departament de Geografia i Història	
	<b>Treball d'aprofundiment</b>	<b>Juny de 2011</b>

6. Anomena les illes que formen l'arxipèlag balear i l'arxipèlag canari.

**Arxipèlag Balear:** \_\_\_\_\_, \_\_\_\_\_, \_\_\_\_\_, \_\_\_\_\_,  
\_\_\_\_\_.



**Arxipèlag Canari:** \_\_\_\_\_, \_\_\_\_\_, \_\_\_\_\_, \_\_\_\_\_,  
\_\_\_\_\_.

\_\_\_\_\_, \_\_\_\_\_.

7. A què anomenem *vessant hidrogràfic*? Quins vessants tenim a la península?

8. Característiques dels rius de la península. Comenta'ls segons el vessant al que pertanyen.

Realitzat per: Ignasi Lloret <small>Signatura</small>	Revisat per: Dept. Ciències Socials <small>Signatura</small>	Data:20/06/2011  Revisió: 1 Pàgina : 3/20
--	---	--

	Departament de Geografia i Història	
	<b>Treball d'aprofundiment</b>	<b>Juny de 2011</b>

9. Relaciona els següents rius amb el vessant corresponent. Situa almenys 3 al mapa.

Navia  
Narcea  
Gadiana  
Bidasoa  
Ebre

Vessant

Duero  
Nalón  
Tajo

Vessant



Guadalquivir  
Nervión  
Tajo

Vessant

Xúquer  
Miño  
Segura



Realitzat per: Ignasi Lloret <small>Signatura</small>	Revisat per: Dept. Ciències Socials <small>Signatura</small>	Data: 20/06/2011
		Revisió: 1 Pàgina : 4/20

	Departament de Geografia i Història	
	<b>Treball d'aprofundiment</b>	<b>Juny de 2011</b>

10. Vocabulari:

Afluent	
Arxipèlag	
Delta	
Maresme	
Erm	



11. a) Escribeu temps o clima segons convinga:

b) Quan a la televisió es dona la informació meteorològica: de què parlen, de

Frases	Temps/clima
Avui fa molta calor.	
A l'estiu fa molta calor.	
A les selves hi ha molta vegetació perquè plou molt.	
Als deserts les nits són sempre fresques.	
Aquest cap de setmana nevarà.	
A les zones polars fa molt de fred.	
Avui encara que estàvem a alta muntanya feia molta calor.	
No oblidis agafar el paraigua ja que està plovent!	
Ací l'estiu és molt sec.	

temps o de clima?

Realitzat per: Ignasi Lloret	Revisat per: Dept. Ciències Socials	Data: 20/06/2011
Signatura	Signatura	Revisió: 1 Pàgina : 5/20

	Departament de Geografia i Història	
	<b>Treball d'aprofundiment</b>	<b>Juny de 2011</b>

12. Uneix amb fletxes:



- |                           |   |
|---------------------------|---|
| • Bosc                    | • són arbustos baixos i espinosos             |
| • Estepa                  | • són grans grups d'arbres                    |
| • Arbres de fulla caduca  | • són arbres que tenen fulla tot l'any        |
| • Arbres de fulla perenne | • són arbres que els cau la fulla a la tardor |

13. Quins són els diferents climes que hi ha a Espanya? Assenyala-los al mapa (pinta en colors diferents cada clima)

- 
- 
- 
- 
- 

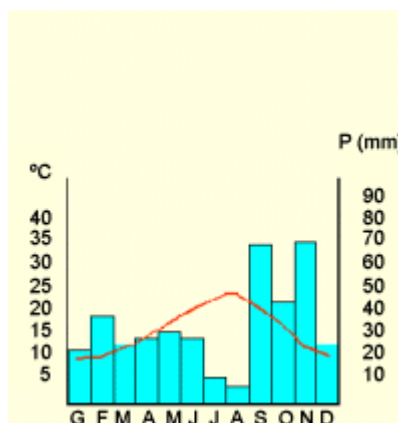


Realitzat per: Ignasi Lloret <small>Signatura</small>	Revisat per: Dept. Ciències Socials <small>Signatura</small>	Data: 20/06/2011  Revisió: 1 Pàgina : 6/20
--	---	---

	Departament de Geografia i Història	
	<b>Treball d'aprofundiment</b>	<b>Juny de 2011</b>

14. Contesta a les següents preguntes:

- Com es diu aquest gràfic?
- Quines variables hi ha representades?
- En quin mes plou més?
- En quin mes plou menys?
- En quin mes es dona la temperatura més elevada?
- Quin és el mes de l'any que té la temperatura més baixa?





15. a) Quins factors intervenen en el clima? Explica'ls breument.

b) Relaciona amb fletxes les frases de les dues columnes:

Causes de les diferències de temperatures en el món	
• A les muntanyes fa més fred que a les valls.	• <b>Latitud</b>
• A Les zones interiors fa més fred a l'hivern i més calor a l'estiu.	
• A prop de l'Equador fa més calor que al costat dels Pols.	• <b>Altitud</b>
• A Europa Central les temperatures són més extremes que a l'Europa Mediterrània.	

Realitzat per: Ignasi Lloret <small>Signatura</small>	Revisat per: Dept. Ciències Socials <small>Signatura</small>	Data: 20/06/2011  Revisió: 1 Pàgina : 7/20
--	---	---

	Departament de Geografia i Història	
	<b>Treball d'aprofundiment</b>	<b>Juny de 2011</b>

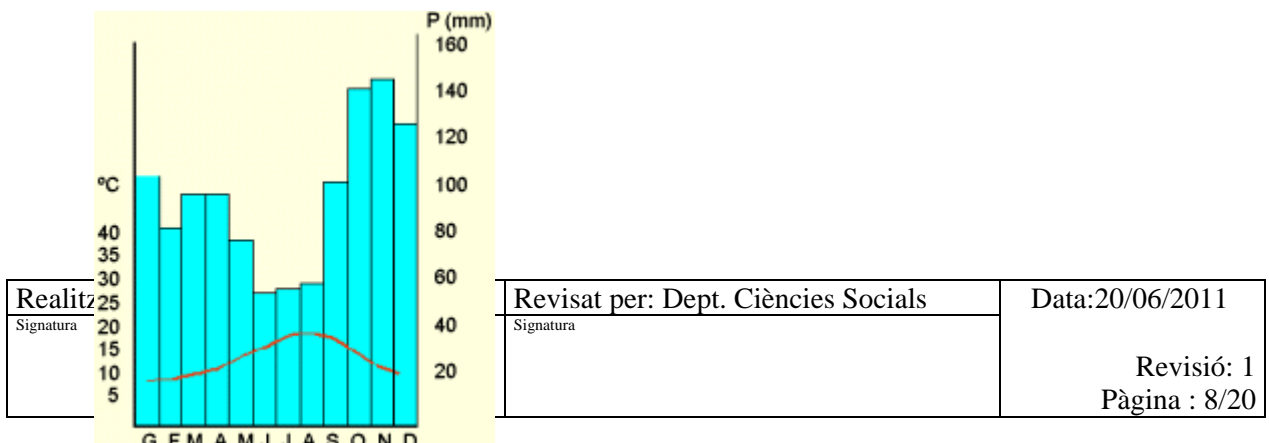
<ul style="list-style-type: none"> <li>• A Rússia fa més fred i neva més sovint que a Espanya.</li> </ul>	<ul style="list-style-type: none"> <li>• Proximitat al mar</li> </ul>
---	---



16. Realitza el següent climograma: (a un full mil·limetrat)

Climograma												
	G	F	M	A	M	J	J	A	S	O	N	D
<b>T (°C)</b>	10	10	12	16	20	24	25	26	22	20	15	11
<b>P (mm)</b>	62	37	37	23	23	14	6	7	15	51	56	71


17. Comenta les característiques més representatives dels climes estudiats. (precipitacions, temperatures i vegetació)

18. Interpreta el següent climograma. De quin clima es tracta?



	Departament de Geografia i Història	
	<b>Treball d'aprofundiment</b>	<b>Juny de 2011</b>

19. Relaciona les imatges amb l'estació de l'any corresponent:



estiu



tardor

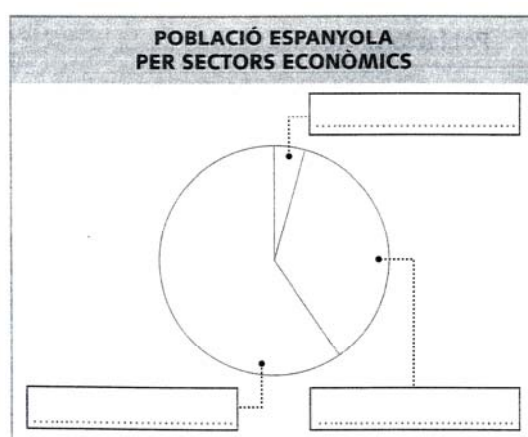


hivern





primavera

20. Indica al següent gràfic els sectors de producció econòmica segons el percentatge de població activa que treballa en cadascun.



Realitzat per: Ignasi Llo  
 Signatura

ocials	Data:20/06/2011
	Revisió: 1 Pàgina : 9/20

	Departament de Geografia i Història	
	<b>Treball d'aprofundiment</b>	<b>Juny de 2011</b>

21. Quines activitats formen els diferents sectors de producció? Posa algun exemple.

Sector \_\_\_\_\_

Principals activitats:



Sector \_\_\_\_\_

Principals activitats:

Sector \_\_\_\_\_

Principals activitats:

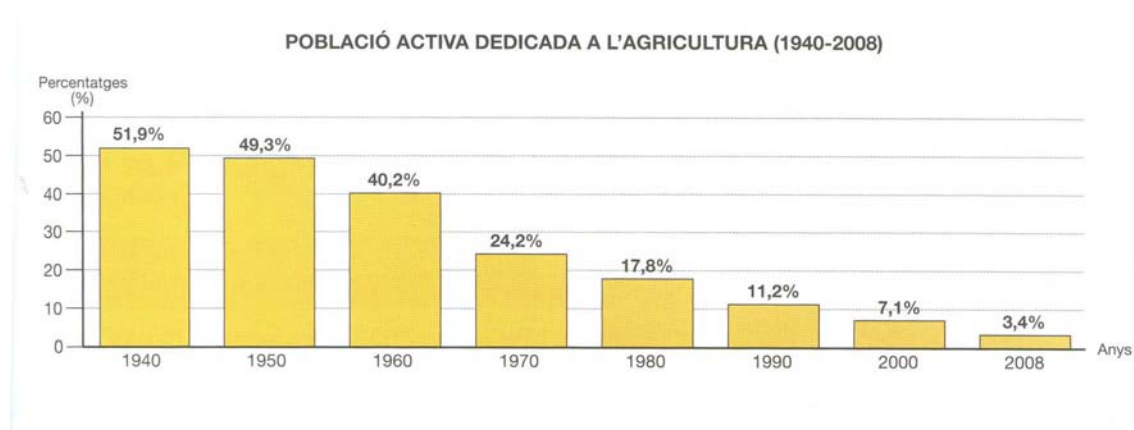
Realitzat per: Ignasi Lloret <small>Signatura</small>	Revisat per: Dept. Ciències Socials <small>Signatura</small>	Data: 20/06/2011  Revisió: 1 Pàgina : 10/20
--	---	--

	Departament de Geografia i Història	
	<b>Treball d'aprofundiment</b>	<b>Juny de 2011</b>



22. Tipus de comerç, transport i turisme que podem trobar a Espanya.

23. Digues quines són les principals destinacions de turisme a Espanya. Per què?

24. Comenta el següent gràfic sobre el sector primari.




Realitzat per: Ignasi Lloret Signatura	Revisat per: Dept. Ciències Socials Signatura	Data: 20/06/2011  Revisió: 1 Pàgina : 11/20
---	--	--

	Departament de Geografia i Història	
	<b>Treball d'aprofundiment</b>	<b>Juny de 2011</b>

25. Comenta els següents gràfics de població per sectors d'activitats d'aquests països i després elabora un gràfic de barres en el percentatge de població espanyola que treballa en cada un dels tres sectors (fixat en les dades d'Espanya).

Població ocupada per sectors d'activitat



26. Classifica les següents activitats en els sectors corresponents.

Concessionari de cotxes

Cria de porcs

Mecànic de motos

Central nuclear

Empresa de construcció



Pedrera de marbre i granit

Sector \_\_\_\_\_

Sector \_\_\_\_\_

Sector \_\_\_\_\_

Realitzat per: Ignasi Lloret Signatura	Revisat per: Dept. Ciències Socials Signatura	Data: 20/06/2011  Revisió: 1 Pàgina : 12/20
---	--	--

 S E S LA LLOSA DE RANES	Departament de Geografia i Història	
	<b>Treball d'aprofundiment</b>	<b>Juny de 2011</b>

Perruqueria

Sanitat



27. Contesta a les següents preguntes:

- A quin sector de producció pertany una refineria?
  
- Quina primera matèria s'utilitza en una refineria? Quins productes se n'obtenen?
  
- Quines activitats del sector terciari es realitzen en un aeroport?
  
- Com és l'agricultura a Europa?

28. Què és la pluja àcida? Quines conseqüències té per al medi ambient?

29. Què és l'escalfament global? Quina n'és la causa?

Realitzat per: Ignasi Lloret <small>Signatura</small>	Revisat per: Dept. Ciències Socials <small>Signatura</small>	Data: 20/06/2011  Revisió: 1 Pàgina : 13/20
--	---	--

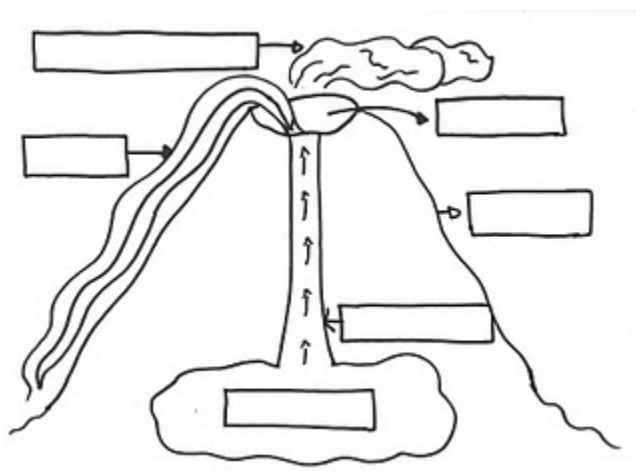
	Departament de Geografia i Història	
	<b>Treball d'aprofundiment</b>	<b>Juny de 2011</b>

30. Quines conseqüències tenen per als oceans i els mars el vessaments de petroli?



31. Què entenem per ecosistema? Quins 4 elements formen l'ecosistema de la Terra?

32. Què són els riscos naturals? Quins tipus de riscos naturals hem estudiat a classe?

33. Parts d'un volcà.

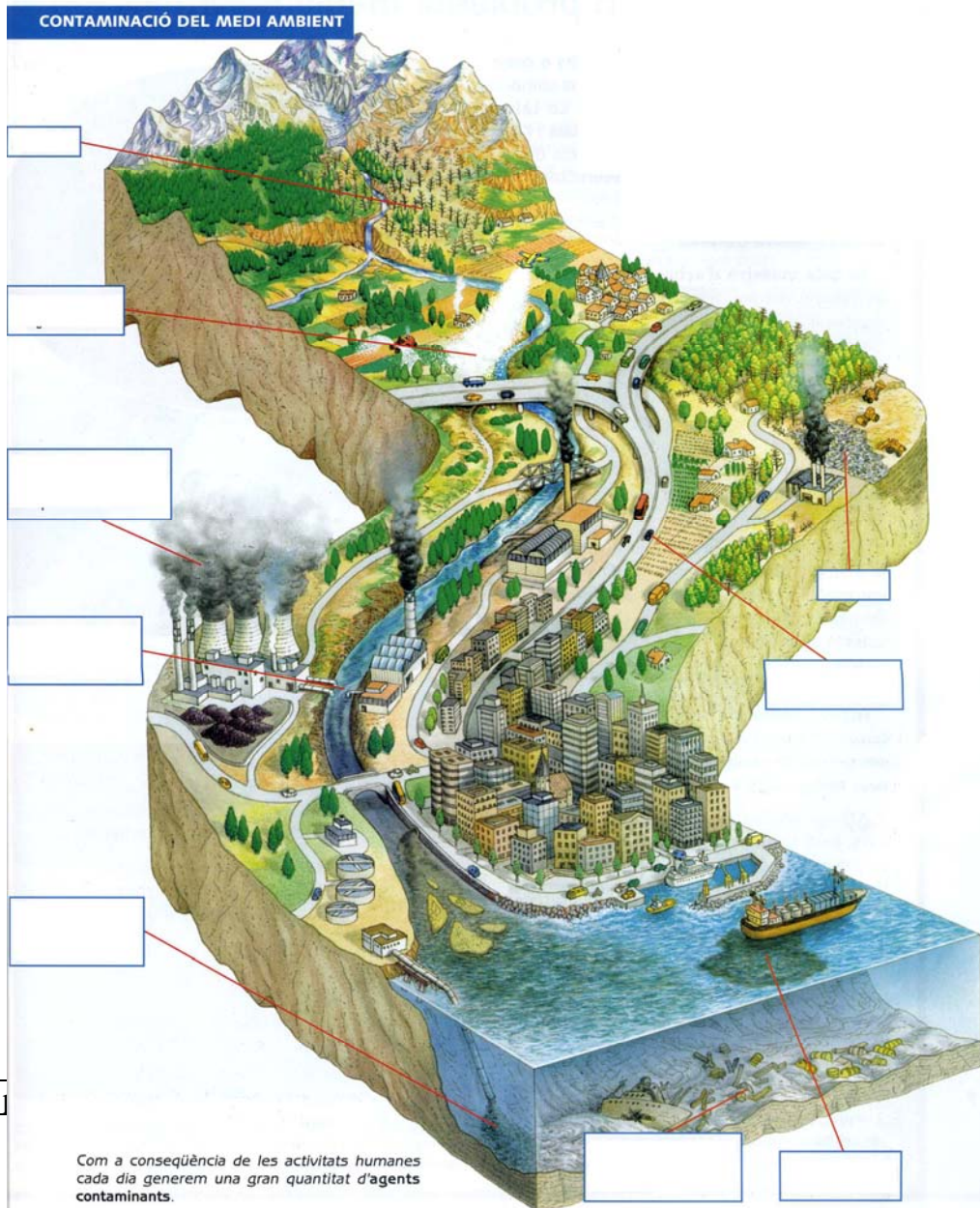


Realitzat per: Ignasi Lloret Signatura	Revisat per: Dept. Ciències Socials Signatura	Data: 20/06/2011  Revisió: 1 Pàgina : 14/20
---	--	--

	Departament de Geografia i Història	
	<b>Treball d'aprofundiment</b>	<b>Juny de 2011</b>

34. Fixa't en el dibuix de la contaminació del medi ambient i completa els cartells buits amb els riscos provocats per l'acció humana.



pesticides per a fumigar cultius    deixalles    cru vessat pels vaixells  
 fums i gasos de les fàbriques    pluja Àcida    residus d'indústries  
 combustible que cremen els vehicles    residus de les nostres cases



Realitzat  
 Signatura

Com a conseqüència de les activitats humanes cada dia generem una gran quantitat d'agents contaminants.

06/2011  
 Revisió: 1  
 na : 15/20

	Departament de Geografia i Història	
	<b>Treball d'aprofundiment</b>	<b>Juny de 2011</b>

35. Explica la diferència que hi ha entre recursos naturals i recursos renovables.  
Posa algun exemple.

36. Digues 5 maneres de contribuir a no malbaratar l'aigua.



37. Vocabulari:

Litosfera:

Hidrosfera:

Atmosfera:

Realitzat per: Ignasi Lloret <small>Signatura</small>	Revisat per: Dept. Ciències Socials <small>Signatura</small>	Data: 20/06/2011  Revisió: 1 Pàgina : 16/20
--	---	--

	Departament de Geografia i Història	
	<b>Treball d'aprofundiment</b>	<b>Juny de 2011</b>

Biosfera:

Tsunami:

Exhaurir:

Vessament:

38. Què és la història? Quines són les edats en que organitzem la història?  
(Ordena-les cronològicament)

39. Què és una font històrica? Quines són les principals fonts que hem estudiat?

40. Quan comença i quan acaba la prehistòria? Què volen dir les sigles a.C i d.C?



41. A què anomenem *pintures rupestres*?

Realitzat per: Ignasi Lloret <small>Signatura</small>	Revisat per: Dept. Ciències Socials <small>Signatura</small>



2011

Assiò: 1  
17/20

	Departament de Geografia i Història	
	<b>Treball d'aprofundiment</b>	<b>Juny de 2011</b>

Comenta la següent pintura rupestre:





42. Col·loca en l'apartat que corresponga les característiques següents:

*cultiven la terra, són nòmades, construeixen aqüeductes, formen grups reduïts, es visten amb pells, parlen llatí, són sedentaris, utilitzen la moneda, construeixen megàlits.*

Éssers humans Del Paleolític	Éssers humans Del Neolític	Éssers humans de l'Edat Antiga

Realitzat per: Ignasi Lloret <small>Signatura</small>	Revisat per: Dept. Ciències Socials <small>Signatura</small>	Data: 20/06/2011  Revisió: 1 Pàgina : 18/20
--	---	--

	Departament de Geografia i Història	
	<b>Treball d'aprofundiment</b>	<b>Juny de 2011</b>

--	--	--



43. Digues si aquestes afirmacions són vertaderes (V) o falses (F):

- \_\_\_\_\_ Els poblats neolítics eren autosuficients.
- \_\_\_\_\_ Amb la metal·lúrgia van aparèixer els primers especialistes.
- \_\_\_\_\_ L'expansió del comerç va afavorir l'aparició de grups socials.
- \_\_\_\_\_ La història comença en el naixement de l'agricultura.

44. Quan comença i quan acaba l'edat Antiga?

45. Per qui estava habitada la península ibèrica al començament de l'edat antiga? Quin era l'estat més important de l'antiguitat? Com anomenaven a la península ibèrica?

Realitzat per: Ignasi Lloret <small>Signatura</small>	Revisat per: Dept. Ciències Socials <small>Signatura</small>	Data: 20/06/2011  Revisió: 1 Pàgina : 19/20
--	---	--

 <p>SES LA LLOSA DE RANES</p>	Departament de Geografia i Història	
	<b>Treball d'aprofundiment</b>	<b>Juny de 2011</b>

Realitzat per: Ignasi Lloret <small>Signatura</small>	Revisat per: Dept. Ciències Socials <small>Signatura</small>	Data:20/06/2011  Revisió: 1 Pàgina : 20/20
--	---	---